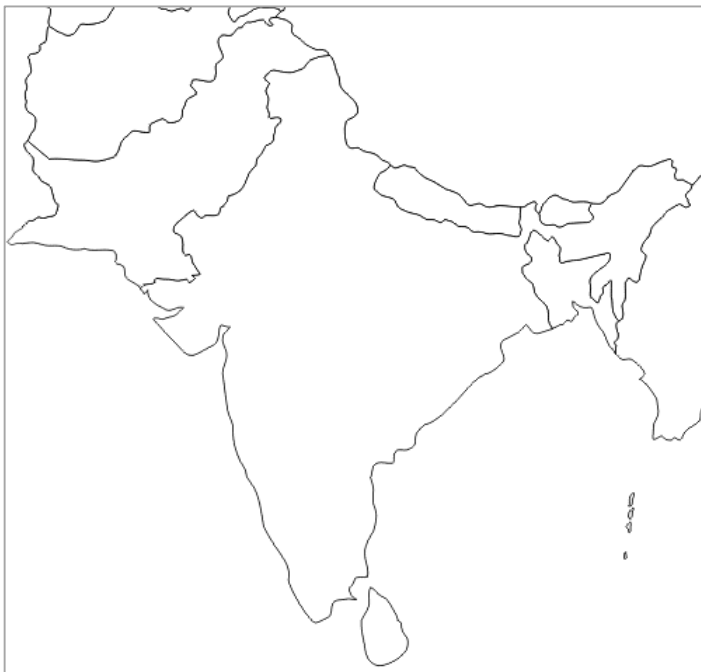
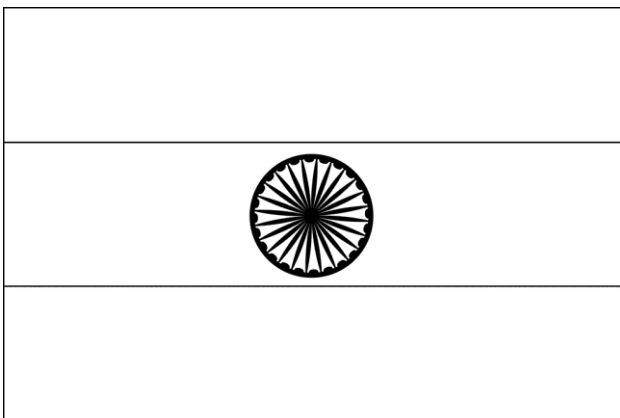


INDIA

1. Na obrysovej mape Južnej Ázie pomenuj Indiu a výraznou farbou obtiahni jej štátne hranice. Pomenuj aj všetky s ňou susediace štáty.



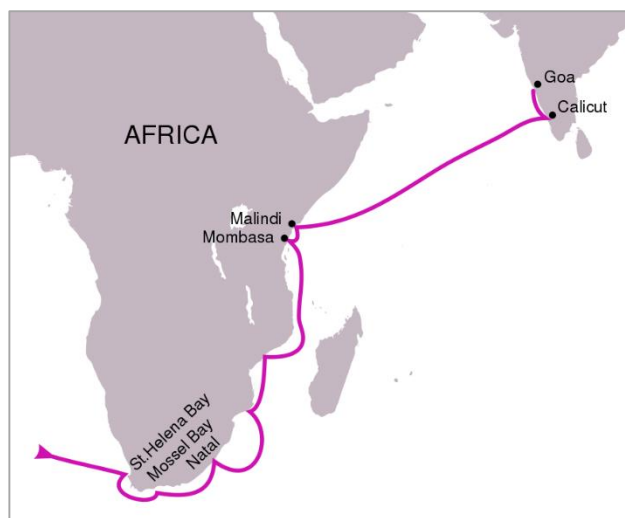
2. Vyfarbi štátnu vlajku Indie tak, aby mala správne farby.



3. Rovnako ako ostatné štáty sveta má India okrem štátnej vlajky aj svoj štátny symbol. Zakrúžkuj ten správny.



4. Pod velením ktorého slávneho moreplavca sa podarilo prvým lodiam z Európy v roku 1498 doplaviť k indickým brehom? Na ceste za bohatstvom Indie oboplávali aj Mys dobrej nádeje na juhu Afriky, čím sa stali prvými Európanmi vo vodách Indického oceána.

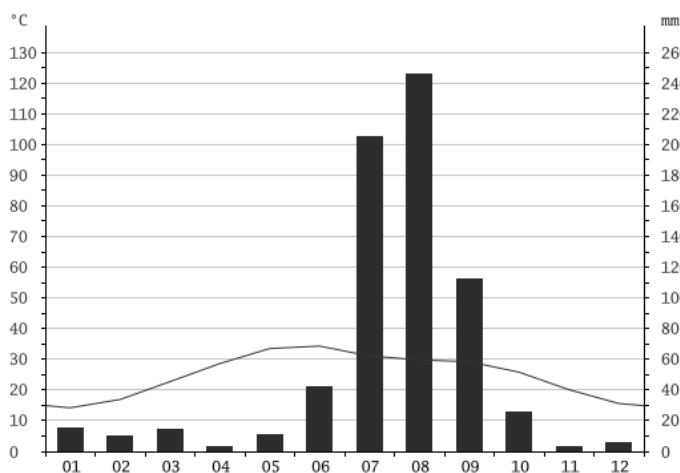


- a) Krištof Kolumbus
 - b) Marco Polo
 - c) Vasco Da Gama
 - d) James Cook
5. Odkiaľ tento moreplavec pochádzal? Práve jeho domovská krajina ako prvá z Európy nadviazala obchodné vzťahy s indickým subkontinentom. Vybudovala tam viacero prístavov, ktoré sa časom premenili na súčasť zámorských kolónií.
.....
 6. Tri z desiatich najrozšírenejších jazykov sveta, ktoré ako svoje rodné používa takmer polovica obyvateľov planéty, pochádzajú z Indie. Podčiarkni ich názvy.

čínština, španielčina, angličtina, hindčina, arabčina, portugálčina, bengálčina, ruština, japončina, pandžábčina

13. Aké tradície a zvyky sú v Indii s týmto náboženstvom spojené?

14. Preštuduj si klimatický graf priemerných teplôt (čiara) a zrážok (stĺpce) v jednotlivých mesiacoch roka pre hlavné mesto Indie Naí Dillí.
- Ktorý mesiac je na zrážky najbohatší?:
 - Približne koľko milimetrov zrážok počas neho v Naí Dillí naprší?:
 - Počas ktorých mesiacov je v Naí Dillí obdobie dažďov?:
 - V ktorých mesiacoch máš najmenšiu šancu, že ťa v Naí Dillí zastihne hustý lejak?
 - Klesá počas roka teplota v Naí Dillí dlhodobejšie pod bod mrazu?: ÁNO / NIE



15. V Indii sa dodnes chovajú niektoré pre nás netradičné druhy hospodárskych zvierat. V premiešaných vetách sú základné informácie o troch z nich. K jednotlivým druhom prirad' správne vety – v texte ich podčiarkni rovnakou farbou ako názov zvierata.

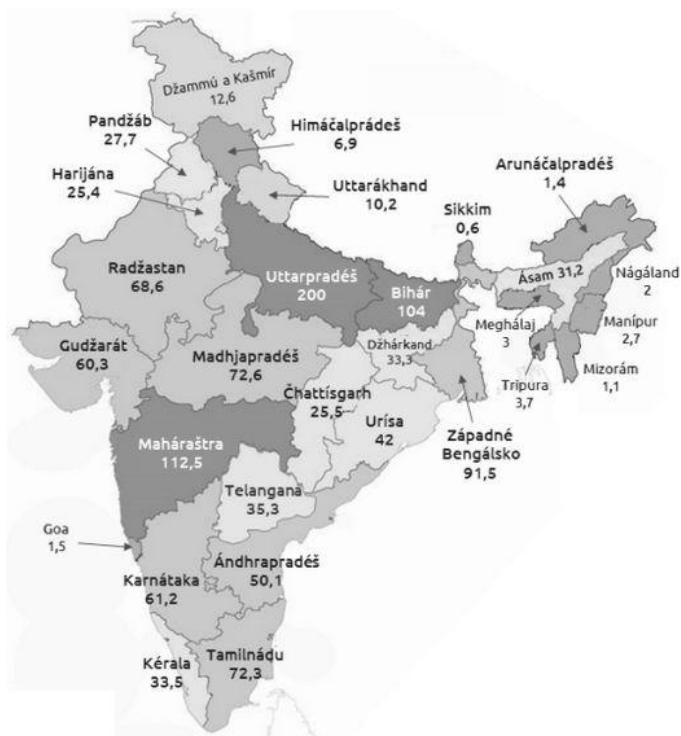
KAŠMÍRSKA KOZA JAK DROMEDÁR

Ťava jednohrbá je v prírode už vyhubená a žije len v zdomácnenej forme. Mohutné zviera z čeľade turovité, ktorého samec môže vážiť aj viac ako tonu. Z vlny sa vyrába textilný materiál, jeho názov je rovnako ako pomenovanie živočícha odvodený od názvu regiónu v horskej oblasti na severe Indie. Žije v Himalájach, na Tibetskej náhornej plošine a juhu strednej Ázie. Využíva sa najmä ako dopravný prostriedok v suchých oblastiach púšte Thár, dáva však aj mlieko a mäso. Mohutnú hlavu majú obe pohlavia ozdobenú hrubými rohmi. Srsť, ktorá ich počas zimy chráni pred extrémnym chladom, má hnedočiernu až čiernu farbu. Živí sa trávou a listami drevín v riedkej vegetácii. Chová sa pre ťažnú silu, mäso a mlieko, jeho trus sa po vysušení používa aj ako izolačný materiál na domy.


16. Posúď správnosť tvrdení o Himalájach.
- Himaláje patria k mladým pohoriam, ktoré ešte stále rastú. ÁNO / NIE
 - Himaláje vznikli vulkanickou činnosťou po zrážke tektonických dosiek. ÁNO / NIE
 - Horské ľadovca v Himalájach sú obrovskými zásobárňami sladkej vody. ÁNO / NIE
 - Deväť z desiatich najvyšších vrchov sveta nájdeme práve v Himalájach. ÁNO / NIE
 - Najvyšší vrch sveta Mount Everest leží na hraniciach Indie s Nepálom. ÁNO / NIE

17. Napiš názvy dvoch svetových náboženstiev, ktoré vznikli na území Indie. Ktoré z nich sa považuje za najstaršie dodnes praktizované náboženstvo?

18. Pomocou mapy, ktorá zobrazuje počet obyv. vo federatívnych štátoch Indie (v miliónoch), sa pokús odpovedať na otázky nižšie.



20. V koláčovom grafe vyznač podiel Indie na celkovej populácii Zeme (7,3 miliárd obyv.). V Indii žije odhadom približne 1,3 miliardy ľudí.



- Ktorý indický štát je najľudnatejší?:
- Ktorá rieka ním preteká?:
- Koľko štátov Indie má viac obyv. ako najľudnatejší štát EÚ Nemecko (81,5 mil. obyv.)?
- Koľko indických štátov je počtom obyv. menších ako Slovensko?
- V poradí koľkým najľudnatejším štátom Indie by bolo Francúzsko (67 mil. obyv.)?:

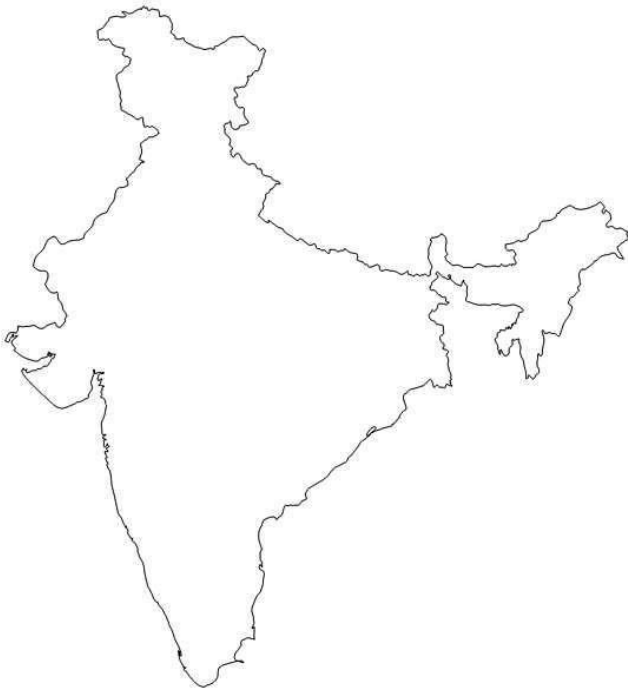
19. Každý desiaty Ind žije v slume – najchudobnejšej časti mesta, v ktorej chýba základná infraštruktúra bývania, ako ju poznáme z ekonomicky rozvinutých štátov sveta. Pomenuj niekoľko problémov života v slumoch.

.....

21. India zažíva prudkú urbanizáciu (ťahovanie obyv. do miest), väčšina Indov žije však stále na vidieku. Z tvrdení zakrúžkuj tie, v ktorých nie sú uvedené dôvody migrácie ľudí z vidieka do miest.

- *zavádzanie strojov v poľnohospodárstve znižuje závislosť fariem od ľudskej pracovnej sily*
- *znečistenie životného prostredia vo veľkomestách spôsobuje zdravotné problémy*
- *nedostatok dostupnej pôdy pre mladých ľudí z chudobných rodín*
- *mestá poskytujú viac príležitostí pre ambicióznym mladých ľudí*
- *neúrodné roky zadlžujú malých farmárov, ktorí nie sú schopní splácať svoje dlhy*
- *rozvíjajúci sa priemysel a služby v mestách*
- *prístup ku kvalitnejšiemu vzdelaniu, zdravotnej starostlivosti a službám v mestách*
- *silné rodinné väzby a tradície sú stále súčasťou života indickej spoločnosti*

22. Pomocou školského atlasu vyznač polohu miest Dillí, Bombaj a Kalkata na obrysovej mape Indie.



23. V Indii sa hovorí viac ako sto miestnymi jazykmi. Ako celoštátny oficiálny a úradný jazyk sa okrem hindčiny používa aj jazyk niekdajších európskych kolonizátorov Indie. Ktorý?

- a) holandčina b) angličtina
c) portugalčina d) francúzština

24. Posúď správnosť výroku.

V poslednom desaťročí zaznamenáva India výrazný ekonomický rast. V krajine je rozvinutý aj sektor informačných technológií. ÁNO / NIE

25. Indický vodič rikše – tradičného dopravného prostriedku na ľudský pohon – zarobí za deň v prepočte okolo 5 eur. Slovenský študent si na brigáde privyrobí okolo 2,50 eur na hodinu. Koľko osemhodinových smien musí odrobiť slovenský študent, aby zarobil toľko, čo indický vodič rikše za mesiac, počas ktorého odpracuje 26 dní?

.....

26. Ako sa nazýva národná mena Indie?

- a) indický dolár b) indická libra
c) indická rupia d) indický dinár



27. Ktorá osobnosť indických dejín je vyobrazená na pravej strane bankovky? Čo o nej vieš?

.....

28. Indická kuchyňa je svetoznáma. Zakrúžkuj tvrdenia, ktoré ju správne charakterizujú.

- najpoužívanejšou obilninou je ryža
- výrazná spotreba hovädzieho mäsa
- prevaha vegetariánskych pokrmov
- korenisté jedlá
- častou zložkou jedál sú strukoviny
- typickým obedom sú instantné rezance

29. Spoznáš typickú architektúru hinduistického chrámu len podľa jeho siluety? Zakrúžkuj obrázok, ktorý ju znázorňuje.



30. Ktorý kolektívny šport je v Indii najpopulárnejší? India v ňom patrí medzi najlepšie tímy. Televízny prenos finálového zápasu MS 2011, v ktorom India na domácej pôde zvíťazila, sledovalo v televízii takmer 150 miliónov Indov.

- a) kriket b) ženský futbal c) rugby d) bejzbal

INDIA – VŠETKY FARBY ORIENT

Opíš svoje zážitky a dojmy z dokumentárneho filmu. Vľavo od Tádž Mahalu napíš, čo sa ti na filme páčilo - čo ťa zaujalo. Vpravo máš priestor na vyjadrenie toho, čo sa ti na filme nepáčilo. Na cestu v strede obrázka napíš, čo by si sa o Indii ešte rád/rada dozvedel/a. Na záver sa pokús charakterizovať Indiu len niekoľkými slovami – po jednom ich zapisuj do poschodí vežičiek alebo stĺpov lemujúcich cestu.

