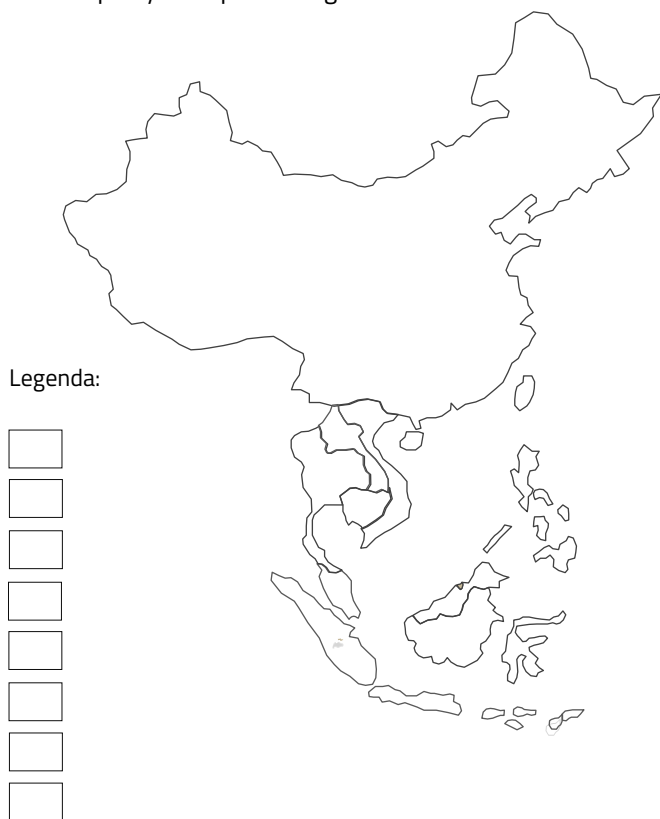



VIETNAM

1. V obrysovej mape vyfarbi všetky štáty odlišnou farbou. K mape vytvor správnu legendu.



2. Vyfarbi štátnu vlajku Vietnamu.



3. Vo Vietname žije viac ako 90 miliónov ľudí. Z uvedených tvrdení o počte obyvateľov Vietnamu označ tie, ktoré sú pravdivé.

- a) Ak by bol Vietnam v Európskej únii, bol by jej najľudnatejším členským štátom.
- b) Vo Vietname žije približne 5% svetovej populácie.
- c) Vietnam má najvyšší počet obyvateľov spomedzi všetkých štátov juhovýchodnej Ázie.

- d) V každom z dvojice najväčších vietnamských miest Hanoj a Hočiminovo Mesto žije viac obyvateľov ako na Slovensku.

4. Mapa porovnáva rozlohu Vietnamu so Slovenskom. Aká je približná rozloha Vietnamu, ak je rozloha Slovenska 49 035 km².

- a) 330 000 km²
- b) 3 300 000 km²
- c) 66 000 km²
- d) 660 000 km²



5. Ako sa nazýva na mape vyznačený polostrov JV Ázie? Vietnam sa rozprestiera na jeho východnom pobreží.



- a) Polostrov Predná India
- b) Malajský polostrov
- c) Juhočínsky polostrov
- d) Polostrov Zadná India

6. Najvodnatejšia rieka JV Ázie pramení v Tibete, preteká šiestimi štátmi Zadnej Indie a na juhu Vietnamu ústi do Juhočínskeho mora. Vietnamci ju volajú Rieka deviatich drakov. Každoročné záplavy, ktoré prináša do územia delty, sú kľúčové pre pestovanie ryže a ďalších plodín. Ako sa táto rieka nazýva?

- a) Indus
- b) Ganga
- c) Mekong
- d) Červená rieka

7. V hlavnom meste Vietnamu žije viac ako 7 mil. obyvateľov. Napriek tomu nie je najväčším ani ekonomicky najdôležitejším vietnamským mestom.

Hlavným mestom Vietnamu je:

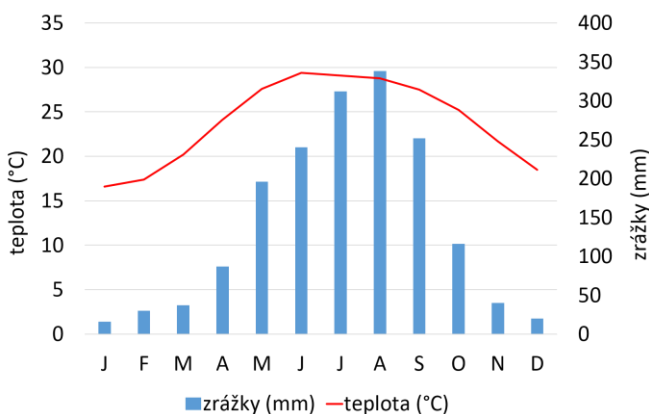
- a) Šanghaj
- b) Hanoj
- c) Hočiminovo Mesto
- d) Danang

8. Najvyšším pohorím Vietnamu je Hoàng Liên Sơn (známe aj ako Tonkinské Alpy) na hraniciach s Čínou. Vyhľadaj ho v školskom atlase a zisti, akú nadmorskú výšku dosahuje jeho najvyšší vrch Fan Si Pan.

Nadmorská výška vrchu Fan Si Pan:

O koľko metrov je vyšší v porovnaní s najvyšším vrchom Slovenska Gerlachovským štítom?:

9. Ktoré mesiace sú najvhodnejšie na návštevu Vietnamu? Analyzuj klimatický graf, ktorý zobrazuje priemerné mesačné teploty a zrážky v hlavnom meste Hanoj. Na základe zistených informácií doplň chýbajúce časti textu.

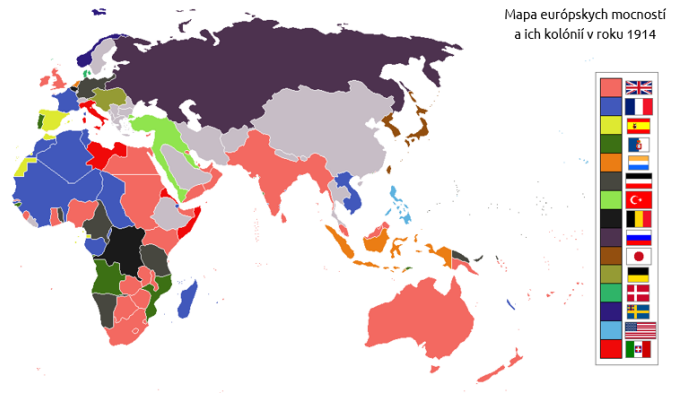


Podnebie v Hanoji je **teplé / mierne a vlhké / suché** (nesprávne preškrtni). Intenzívne zrážky prináša letný **monzún / hurikán**. Obdobie sucha, počas ktorého spadne menej ako 50 mm zrážok mesačne, trvá od do (doplň mesiace). Ročný úhrn zrážok je približne mm. Najteplejším mesiacom v roku je Priemerná teplota v ňom dosahuje okolo °C. Počas najchladnejšieho mesiaca v roku klesá priemerná teplota k hodnote okolo °C.

10. Spomedzi uvedených štátov vyznač tie, s ktorými Vietnam **nesusedí**.

Laos, Čína, Mjanmarsko, Kambodža, Thajsko, India

11. Pod nadvládou (koloniálnou správou) ktorého európskeho štátu bol Vietnam od polovice 19. do polovice 20. storočia? Pomôcť si môžeš mapou.



12. Najtragickejšou kapitolou moderných vietnamských dejín bola vojna, ktorá poznačila nielen Vietnam, ale aj svetové veľmoci, ktoré sa jej zúčastnili. V texte doplň chýbajúce informácie.

Vietnamská vojna si medzi rokmi **1954–1965 / 1964–1975** (nesprávne preškrtni) vyžiadala viac ako milión obetí na životoch. Vstúpili do nej viaceré štáty sveta. Komunistický Severný Vietnam bol podporovaný (doplň), Južný Vietnam podporovala armáda, ktorá počas konfliktu používala aj napalm a chemické postreky na odlišťovanie džungle, kde sa ukrývali partizánske jednotky protivníka. Vojna skončila víťazstvom a vznikom zjednotenej Vietnamskej **feudálnej / socialistickej** republiky.

13. Vietnamská je materinským jazykom pre 90% obyv. Vietnamu. Okrem nich ňou rozprávajú aj Vietnamci žijúci vo svete (na Slovensku ich je okolo 5000). Vietnamská je najväčší zástupca zo skupiny austro-ázijských jazykov. Množstvo slov prevzala z čínštiny. Spomedzi ukážok zakrúžkuj písomnú podobu vietnamsčiny.

没逝鞞耶三
揭鞞殺恒貌
帝殺逝姪三

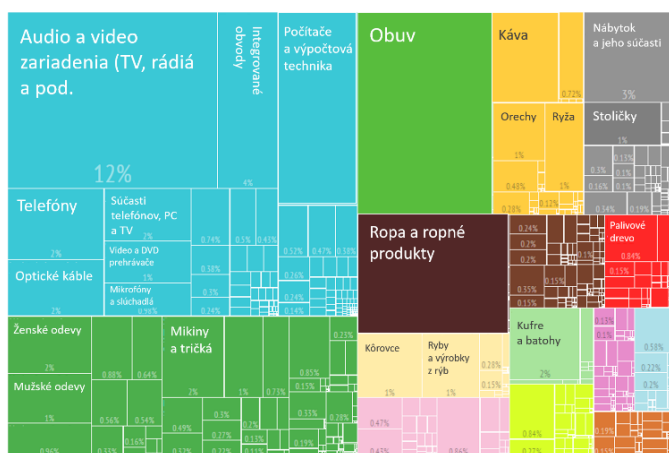
Đầy vườn cỏ mọc lau thưa,
Song trắng quanh-quê, vách mờ rã-rời.
Trước sau nào thấy bóng người,
Hoa đào năm ngoái còn cười gió đông.
Xấp-xè én liệng lâu không,
Cỏ lan mặt đất, rêu phong dấu giầy.
Cuối tường gai góc mọc đầy,
Đi về này những lối này năm xưa.

पशु जानवर हाथी ऊँट घोड़ा
बबर शेर शेर शेरनि सिंह चीता
भालू रीछ मगरमछ बदर

من عداد الصناعات الإنسانية وهو
رسوم وأشكال حرفية تدل على
الكلمات المسموعة الدالة على
ما في النفس. فهو ثاني رتبة عن

14. Doplň chýbajúce časti opisu ku grafu, ktorý zobrazuje zloženie vývozu (exportu) Vietnamu v roku 2014. Plocha celého grafu v tvare obdĺžnika zobrazuje 100%

exportu. Menšie časti zobrazujú podiel jednotlivých výrobkov alebo priemyselných odvetví na celkovom vývoze Vietnamu.



V ostatnom období zaznamenáva Vietnam výrazný ekonomický **rast / pokles** (nesprávne preškrtni) čo sa prejavuje **rastom / poklesom** zahraničných investícií aj domácej spotreby. Štát sa rýchlo industrializuje, skvalitňujú sa služby a rozvíja sa
 ruch. Podiel poľnohospodárstva na celkovom HDP Vietnamu sa **znižuje / zvyšuje**. Najdôležitejším odvetvím priemyslu je **textilný / elektrotechnický**, ktorý tvorí viac ako **štvrtinu / polovicu** celkového exportu. Druhým najdôležitejším priemyselným odvetvím je **chemický / textilný** priemysel, ktorého výrobky sú bežné aj v našich obchodoch. Pracujú v ňom najmä **muži / ženy**.

15. Vietnam má prekvapivo pestré náboženské zloženie. Ktoré z uvedených náboženstiev (3) nemajú viac ako 5% podiel veriacich spomedzi všetkých obyvateľov Vietnamu?

tradičné náboženstvá (konfucionizmus, taoizmus a pod.)
 budhizmus, islam, kresťanstvo, hinduizmus, judaizmus

16. Vietnam je domovom viacerých zaujímavých druhov živočíchov. Premiešané vety obsahujú informácie o troch z nich. Vety, ktoré opisujú byvola domáceho podčiarkni modrou farbou. Vety o makakovi dlhochvostom podčiarkni červenou a vety o lezcovi obojživelnom zelenou farbou.

Je domestikovanou formou divo žijúceho byvola arni. Od iných druhov sa odlišuje chvostom, ktorý je dlhší ako telo. Obe pohľavia majú dlhé rohy polmesiakovitého tvaru, ktoré môžu byť dlhé až 150 cm. Je ryba z radu ostriežovitých, čelade bŕčkovitých a podčelade lezcovitých. Na súši dýcha pomocou miešania vzduchu s vodou, ktorú zadržiava v žiabrových komorách. Zaujímavosťou

je, že si dokáže čistiť zuby a učiť to aj svoje mláďatá. Patrí medzi najdôležitejšie domáce zvieratá trópov, využíva sa najmä na prácu. K lovu krabov a iných kôrovcov v plytkej vode mangrovových porastoch používa aj primitívne nástroje. Vystúpené oči sú prispôbené pohybu mimo vody.

17. Posúď správnosť uvedených výrokov. Pravdivé podčiarkni.

- Hodváb sa vyrába z vlákien rastliny hodvábnik indický.
- Vietnamci prichádzali na Slovensko najmä počas socializmu. Mnohí z nich ostali a stali sa súčasťou našej spoločnosti.
- Najväčšiu prírodnú hrozbu Vietnamu predstavujú časté a silné zemetrasenia.
- Delta Mekongu sa pre jej dôležitosť v poľnohospodárskej produkcii prezýva aj ako *Ryžová misa Vietnamu*.
- Vietnamská jaskyňa Son Doong je najväčšou jaskyňou na svete.

18. V štátoch východnej a juhovýchodnej Ázie bola po stáročia (a časti ostáva dodnes) súčasťou odevu tradičná pokrývka hlavy. Je praktická a chráni pred tropickým slnkom. Vo Vietname sa nazýva **nón lá** a je obľúbeným suvenírom turistov. Spoznáš ju? Správnu odpoveď zakrúžkuj.



VIETNAM – BRÁNA DO INDOČÍNY

Opíš svoje zážitky a dojmy z dokumentárneho filmu a rozprávania o Vietname. Vľavo od mapy napíš, čo sa ti páčilo - čo ťa zaujalo. Vpravo uved' to, čo sa ti nepáčilo.

Čo a ako by sa dalo zlepšiť? Do mapy napíš aspoň desať pojmov, ktoré ti napadnú po vyslovení slova VIETNAM.

