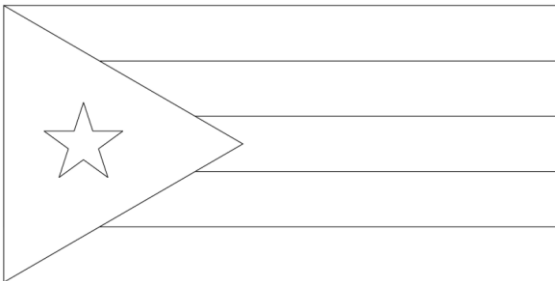


KUBA

1. V obrysovej mape vyfarbi Kubu, vyznač a pomenuj Spojené štáty americké, Mexiko, Jamajku, Haiti, Bahamy, Dominikánsku republiku, Guatemalu, Panamu a Kostariku.
2. V mape zakrúžkuj a pomenuj súostrovia Velké a Malé Antily. Vyznač Mexický záliv, Karibské more, Floridský prieliv, Atlantický oceán a polostrov Yucatán.




3. Aká je vzdušná vzdialenosť (približne v km) severného pobrežia Kuby od brehov Floridského polostrova?
 - a) Španieli
 - b) Francúzi
 - c) Angličania
 - d) Portugalčania
 4. Vyfarbi štátnu vlajku Kuby.
- 
- The flag of Cuba is shown as a rectangular outline with a white five-pointed star in the center. The flag is divided into three horizontal stripes: a blue stripe at the top, a white stripe in the middle, and a red stripe at the bottom.
6. Mapa porovnáva rozlohu Kuby so Slovenskom. Aká je rozloha Kuby, ak vychádzaš zo svojich poznatkov o rozlohe Slovenska?
 - a) 68 540 km²
 - b) 243 145 km²
 - c) 109 884 km²
 - d) 25 775 km²



7. Na viacerých častiach kubánskeho pobrežia sú ešte stále zachovalé porasty (doplň správnu odpoveď), ktoré boli v minulosti rozšírené v celých trópoch. Tvoria prirodzenú ochranu pred búrkami a hurikánmi a poskytujú vhodné prostredie pre život rýb a vtákov.

Podnebie v hlavnom meste Kuby je tropické / subtropické / mierne (nesprávne preškrtni). Obdobie hurikánov spojené s mesačnými zrážkami nad 100 mm trvá od do (doplň mesiace). Ročný úhrn zrážok je približne mm. Najmenej zrážok spadne v mesiaci

8. Obyvateľstvo Kuby je pestré: 12% tvoria černosi, 28% belosi a 50% miešanci. Z kruhu nižšie vytvor graf zastúpenia spomenutých skupín v populácii Kuby a doplň ho legendou.

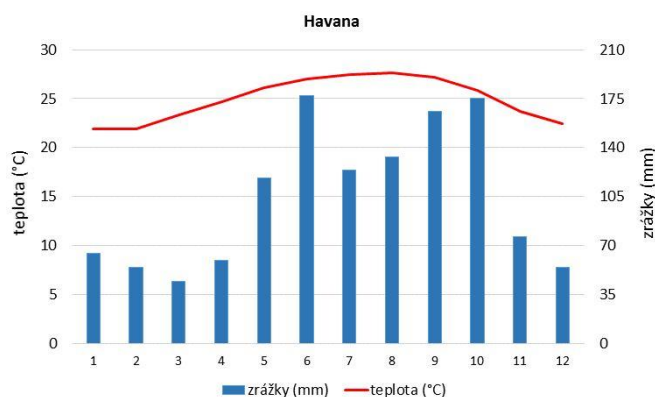


9. Kuba je po Mexiku a Guatemale tretím najľudnatejším štátom Strednej Ameriky a Karibskej oblasti. Koľko má obyvateľov v porovnaní so Slovenskom?

- a) dvakrát viac
- b) približne rovnako
- c) desaťkrát viac
- d) šesťkrát viac

10. Väčšinu povrchu Kuby tvoria nížiny a pahorkatiny. Najvyšším vrchom Kuby je *Pico Turquino*. Vyhládaj ho v školskom atlase a zisti jeho nadmorskú výšku. V ktorom pohorí tento vrch leží?

11. Na základe klimatického grafu odpovedaj na otázky o podnebí Havany.



12. Aké je oficiálne štátne zriadenie Kuby?

- a) socialistická republika
- b) parlamentná republika
- c) konštitučná monarchia
- d) absolutistická monarchia

13. Kuba je chudobná krajina s málo rozvinutým priemyslom. Vývozom akých výrobkov je svetoznáma?

- a) automobily a motocykle
- b) cigary a rum
- c) kakao a čokoláda
- d) drahokamy a drahé kovy

14. Hospodárstvo a každodenný život obyvateľov Kuby ovplyvňuje už viac ako 50 rokov embargo zo strany USA. Čo je to embargo? Vysvetli tento pojem vlastnými slovami.

15. Ako sa volal vodca revolúcie, ktorý premenil Kubu na socialistický štát a vládol jej v rokoch 1961 až 2011?

16. Kuba je známa aj pod prezývkou „Ostrov slobody“. Vlastnými slovami vysvetli prečo je takéto pomenovanie Kuby paradoxné či kontroverzné.

17. Mnohí Kubánci sa kvôli zlej hospodárskej situácii a porušovaniu ľudských práv rozhodli emigrovať do zahraničia – väčšinou do USA. V ktorom americkom štáte ich žije okolo 1,5 milióna?

- a) Texas
- b) Kalifornia
- c) New York
- d) Florida