


Kam vyraziť na výlet v Trnavskom kraji?

Pracuj s mapou atrakcií a zaujímavých miest Trnavského kraja a odpovedz na jednotlivé otázky.




<https://slovenskycestovatel.sk/map>

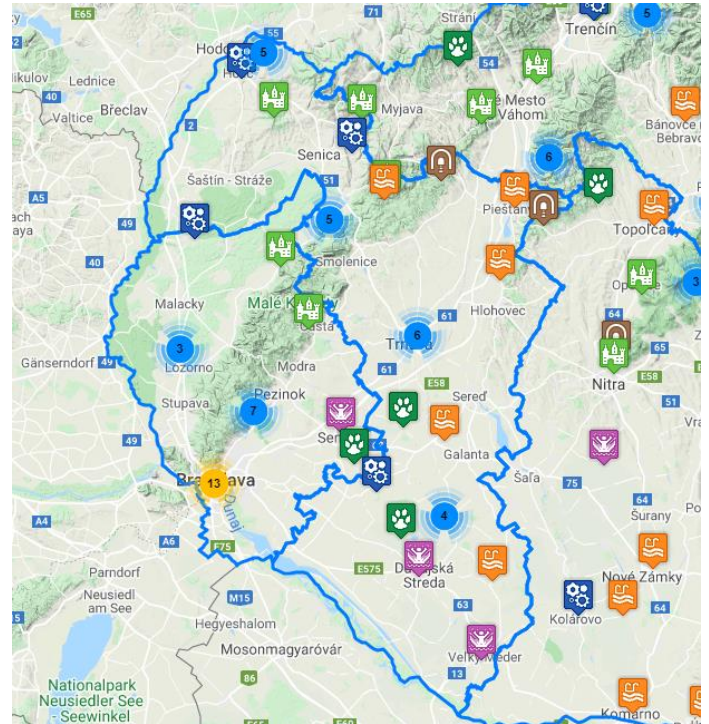
Praktické informácie:

a) približovaním mapy sa odkrývajú ďalšie zaujímavé miesta a zároveň je povrch zobrazovaný detailnejšie

b) symbol číslice , umiestnený v rôznych častiach mapy, udáva počet atrakcií, ktoré sa zobrazia po priblížení mapy alebo po kliknutí na daný symbol

c) atrakcie sú rozdelené do kategórií (kultúra, pamiatky, relax a šport, atď.), ku ktorým prislúchajú špecifické

kartografické znaky (napr. , , )



Úlohy:

1. Vytvor správne dvojice

- | | |
|-------------------|--|
| a) Jelka | ___ Malkia Park |
| b) Smolenice | ___ Tarzania |
| c) Piešťany | ___ Hvezdáreň a planetárium M.R. Štefánika |
| d) Orechová Potôň | ___ vodný kolový mlyn |
| e) Veľký Meder | ___ jaskyňa Driny |
| f) Hlohovec | ___ vodná nádrž Sĺňava |

2. Pác, Kamenný Mlyn, Koplastovce, Eva ... sú názvy:

- a) mlynov b) zámkov c) kaštieľov d) kúpalísk

3. Ako sa nazývajú kúpele, ktoré ležia na západnom Slovensku, uprostred malebného Záhoria cca 80 km od Bratislavy a ktoré patria medzi najúčinnnejšie v strednej Európe pri liečbe kožných ochorení?

4. Na hranici s ktorým krajom sa nachádza Včelárska Paseka, kde nájdeš Včelársky náučný chodník a ukážkovú včelnicu?

- a) Bratislavský kraj b) Nitriansky kraj c) Trenčiansky kraj

5. Zorad' mestá v Trnavskom kraji od najjužnejšieho (1) až po najsevernejšie (6).

___ Senica ___ Dunajská Streda ___ Gabčíkovo ___ Piešťany ___ Trnava ___ Sládkovičovo